

**XX olimpiade dei giochi logici linguistici matematici
FASCIA 7-8 (2-3 PRIMARIA)**



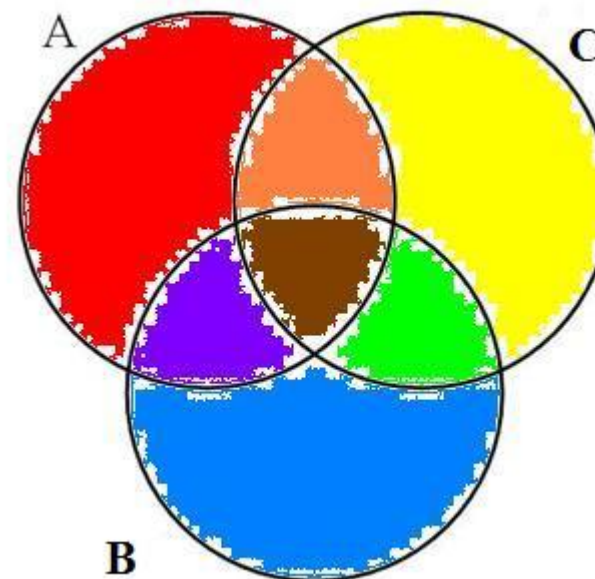
TEST 1 – CALCOLI NATURALI

QUATTRO TARTARUGHE (TARE, TEAR, ATER, ETAR) SI POSSONO DISTINGUERE IN BASE AL PESO.

TARE	TEAR	ATER	ETAR

TARE	TEAR	ATER	ETAR
3 CHILI	2 CHILI	1 CHILO	4 CHILI

MENO DI CINQUE CHILI	PIÙ DI DUE CHILI	PIÙ DI TRE CHILI
TIPO A	TIPO B	TIPO C

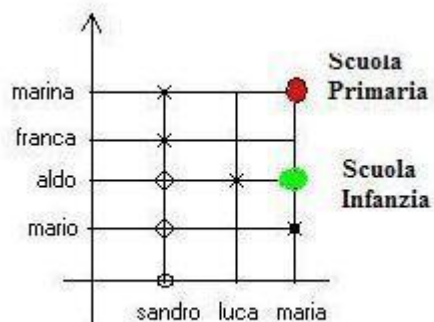


CONSIDERANDO I PESI E LE CLASSIFICAZIONI RIPORTATE NELLE TABELLE, IN QUALE PARTE COLORATA DI CERCHIO SI POSSONO SCRIVERE I NOMI DELLE QUATTRO TARTARUGHE PESATE: TARE, TEAR, ATER, ETAR? (RISPONDERE SCRIVENDO I COLORI CORRISPONDENTI NELLA TERZA RIGA DELLA SEGUENTE TABELLA.)

TEST 2 – INSIEME PER STRADA

IN UNA CITTÀ LE CUI STRADE SI INCROCIANO COME LE LINEE DEL QUADERNO A QUADRETTI, ABITANO SETTE AMICI CHE FREQUENTANO DUE SCUOLE DIVERSE. (MAPPA)
MARINA, FRANCA, LUCA E MARIA VANNO ALLA SCUOLA PRIMARIA, ALDO, MARIO E SANDRO VANNO ALLA SCUOLA DELL'INFANZIA.

QUALI AMICI POTREBBERO INCONTRARE ALDO E MARINA PRIMA DI ARRIVARE, SE I SETTE AMICI PERCORRONO A PIEDI LA STRADA PIÙ BREVE PER ANDARE DALLA PROPRIA CASA, INDICATA NELLA MAPPA, ALLA PROPRIA SCUOLA?

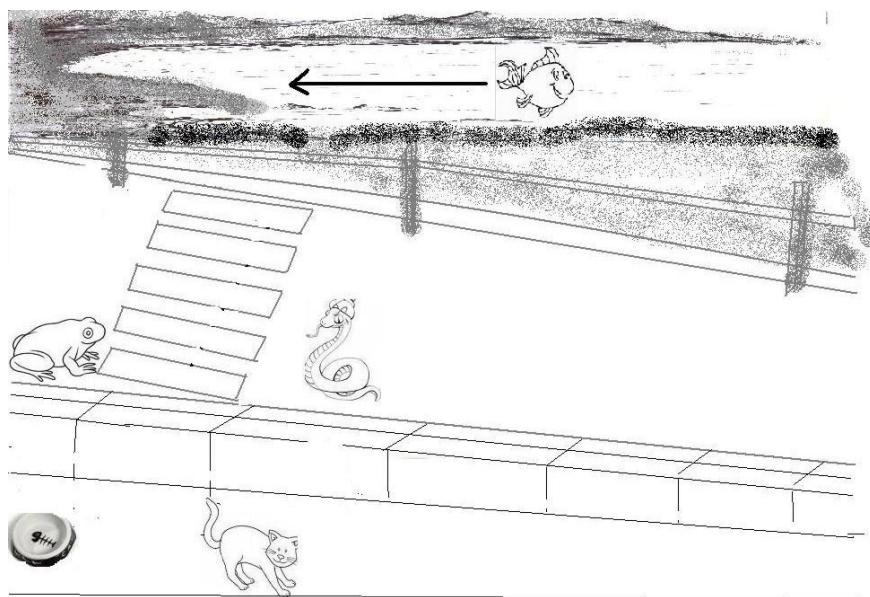


MAPPA

TEST 3 – DIREZIONE OPPOSTA

GLI ANIMALI SI COMPORTANO IN MODO STRANO PRIMA DELL'ARRIVO DI UN TERREMOTO.
PER ESEMPIO I GATTI RIFIUTANO LA SOLITA CIOTOLA DEL LATTE, I PESCI SI RAGGRUPPANO LUNGO LE RIVE, I SERPENTI ED I ROSPI ATTRAVERSANO LE STRADE.

I PESCI AVVERTONO DAL CAPO ALLA CODA IL MOVIMENTO DELL'ACQUA, RAPPRESENTATO DALLA FRECCIA.



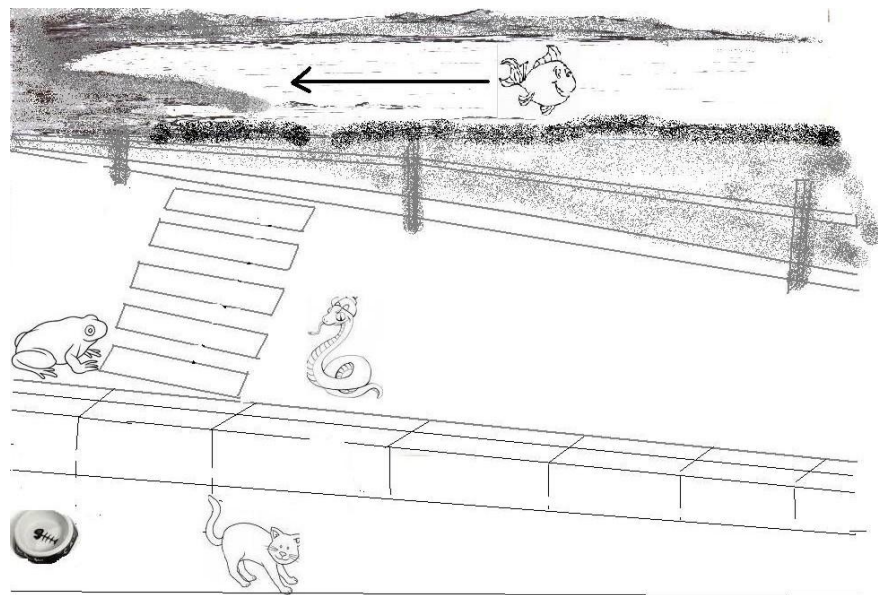
DISEGNARE CON FRECCE I POSSIBILI MOVIMENTI DEI GATTI, DEI SERPENTI E DEI ROSPI QUANDO STA PER GIUNGERE UN TERREMOTO.

SOLUZIONE DEL TEST 1

TARE	TEAR	ATER	ETAR

SOLUZIONE DEL TEST 2

SOLUZIONE DEL TEST 3



FASCIA 7-8 ANNI – FOGLIO DELLE SOLUZIONI

NOME E COGNOME IN STAMPATELLO

NOME E COGNOME IN CORSIVO

DATA DI NASCITA

SCUOLA

CITTÀ